


Adı: _____


Tarih: _____

Birer Ritmik Sayma-1

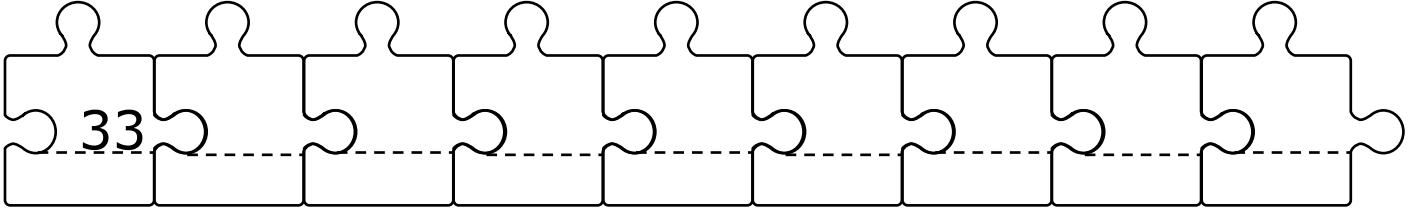
☺ Aşağıda şeklin üzerinde verilen sayıdan başlayıp, **ileriye** doğru birer ritmik sayma yaparak boş bırakılan yerleri doldurunuz.




☺ Aşağıda şeklin üzerinde verilen sayıdan başlayıp, **ileriye** doğru birer ritmik sayma yaparak boş bırakılan yerleri doldurunuz.



☺ Aşağıda şeklin üzerinde verilen sayıdan başlayıp, **ileriye** doğru birer ritmik sayma yaparak boş bırakılan yerleri doldurunuz.




☺ Aşağıda şeklin üzerinde verilen sayıdan başlayıp, **ileriye** doğru birer ritmik sayma yaparak boş bırakılan yerleri doldurunuz.

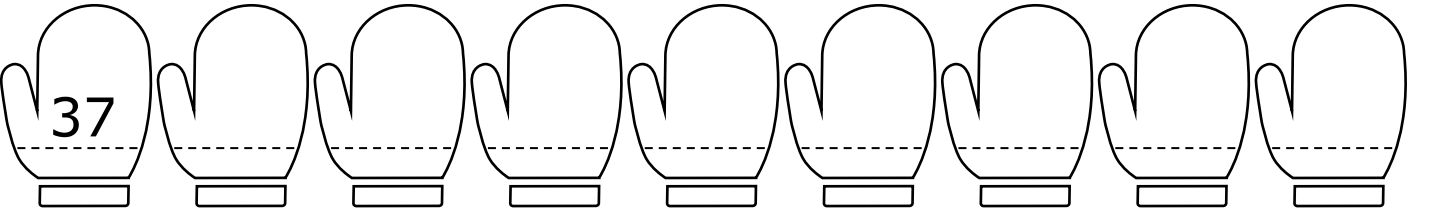





Aşağıda şeklin üzerinde verilen sayıdan başlayıp, **geriye** doğru birer ritmik sayma yaparak boş bırakılan yerleri doldurunuz.



Aşağıda şeklin üzerinde verilen sayıdan başlayıp, **geriye** doğru birer ritmik sayma yaparak boş bırakılan yerleri doldurunuz.



Aşağıda şeklin üzerinde verilen sayıdan başlayıp, **geriye** doğru birer ritmik sayma yaparak boş bırakılan yerleri doldurunuz.



Aşağıda şeklin üzerinde verilen sayıdan başlayıp, **geriye** doğru birer ritmik sayma yaparak boş bırakılan yerleri doldurunuz.

