


Adı: _____


Tarih: _____

Beşer Ritmik Sayma-1

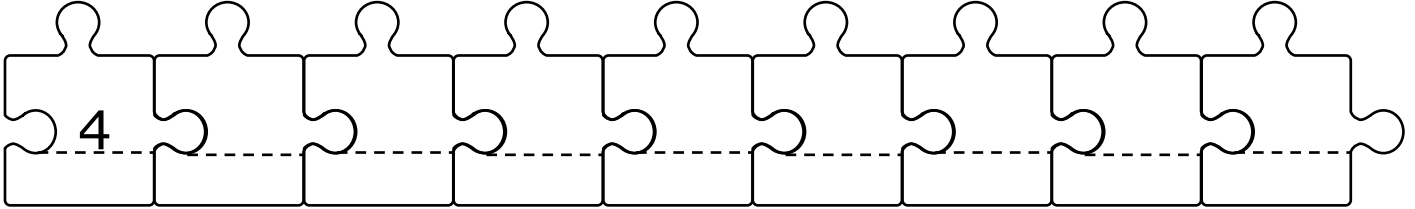
😊 Aşağıda şeklin üzerinde verilen sayıdan başlayıp, **ileriye** doğru beşer ritmik sayma yaparak boş bırakılan yerleri doldurunuz.




😊 Aşağıda şeklin üzerinde verilen sayıdan başlayıp, **ileriye** doğru beşer ritmik sayma yaparak boş bırakılan yerleri doldurunuz.



😊 Aşağıda şeklin üzerinde verilen sayıdan başlayıp, **ileriye** doğru beşer ritmik sayma yaparak boş bırakılan yerleri doldurunuz.




😊 Aşağıda şeklin üzerinde verilen sayıdan başlayıp, **ileriye** doğru beşer ritmik sayma yaparak boş bırakılan yerleri doldurunuz.

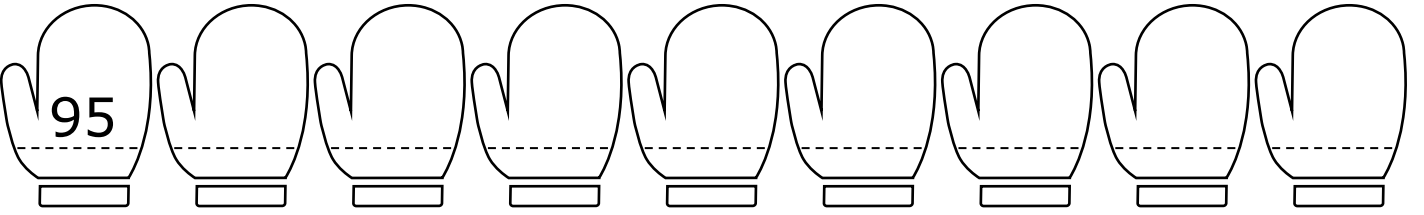




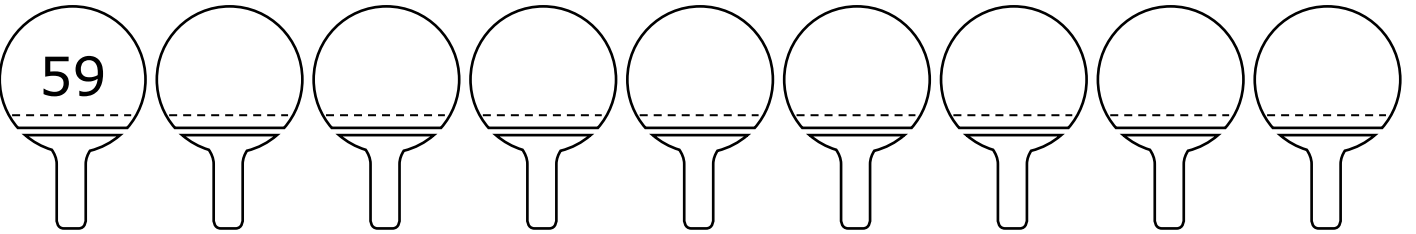
Aşağıda şeklin üzerinde verilen sayıdan başlayıp, **geriye** doğru beşer ritmik sayma yaparak boş bırakılan yerleri doldurunuz.



Aşağıda şeklin üzerinde verilen sayıdan başlayıp, **geriye** doğru beşer ritmik sayma yaparak boş bırakılan yerleri doldurunuz.



Aşağıda şeklin üzerinde verilen sayıdan başlayıp, **geriye** doğru beşer ritmik sayma yaparak boş bırakılan yerleri doldurunuz.



Aşağıda şeklin üzerinde verilen sayıdan başlayıp, **geriye** doğru beşer ritmik sayma yaparak boş bırakılan yerleri doldurunuz.

