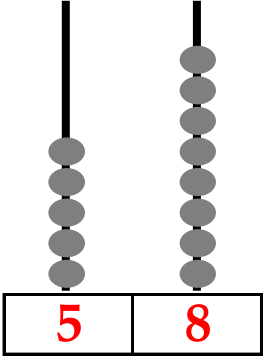
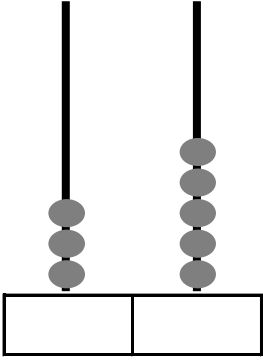


Basamak Deęeri Bulma-1

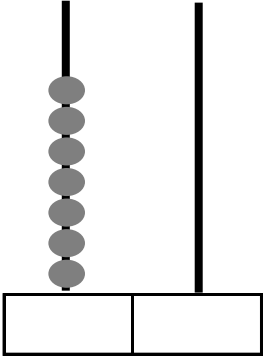
Ařađıdaki abaküslerde gösterilen sayıları örnekteki gibi yazınız. Buna göre tablolardaki boşlukları doldurunuz.



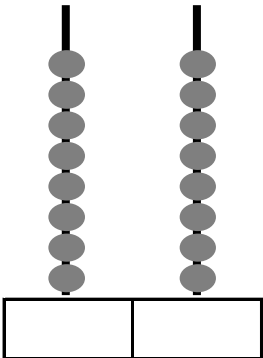
Sayı	58	
Basamak Adı	Onlar Basamađı	Birler Basamađı
Basamak Deęeri	50	8



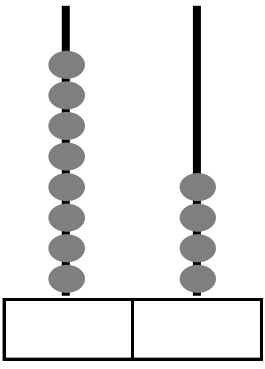
Sayı		
Basamak Adı		
Basamak Deęeri		



Sayı		
Basamak Adı		
Basamak Deęeri		



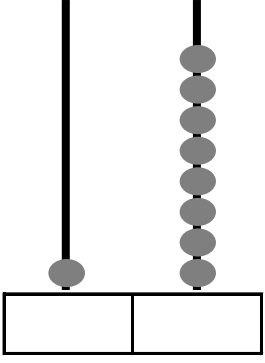
Sayı		
Basamak Adı		
Basamak Deęeri		



Sayı		
------	--	--

Basamak Adı		
-------------	--	--

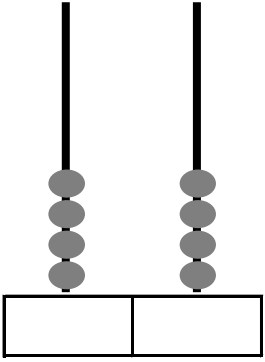
Basamak Değeri		
----------------	--	--



Sayı		
------	--	--

Basamak Adı		
-------------	--	--

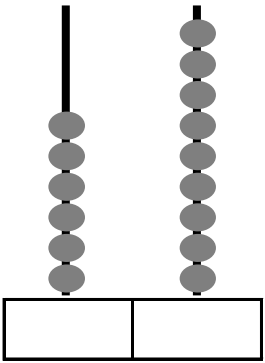
Basamak Değeri		
----------------	--	--



Sayı		
------	--	--

Basamak Adı		
-------------	--	--

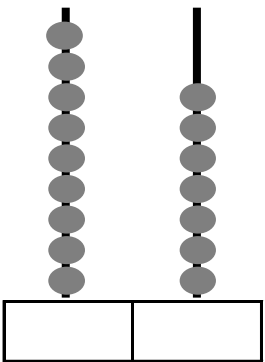
Basamak Değeri		
----------------	--	--



Sayı		
------	--	--

Basamak Adı		
-------------	--	--

Basamak Değeri		
----------------	--	--



Sayı		
------	--	--

Basamak Adı		
-------------	--	--

Basamak Değeri		
----------------	--	--