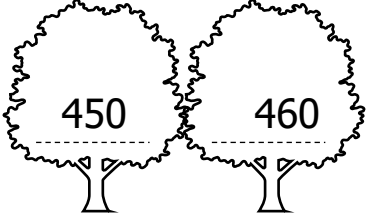


Adı: _____

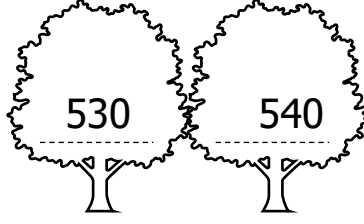
Tarih: _____

Yuvarlama

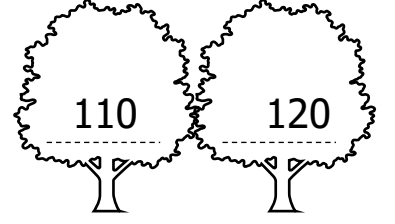
Aşağıdaki kuşların yanında yazan sayıların en yakın onluğa yuvarlanmış hâli hangi ağaçta yazıyorsa o ağacı yeşile boyayınız.



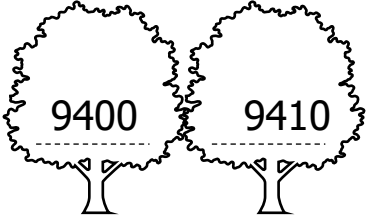
453



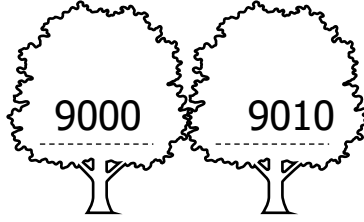
533



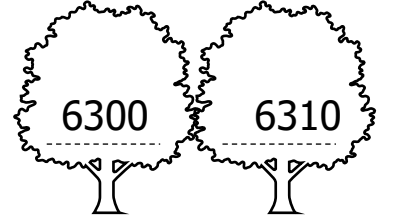
116



9401




9009

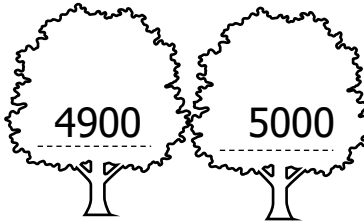


6307


Aşağıdaki kuşların yanında yazan sayıların en yakın yüzlüğe yuvarlanmış hâli hangi ağaçta yazıyorsa o ağacı yeşile boyayınız.



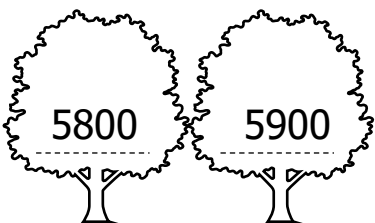
568



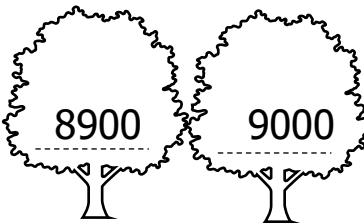
4903




2290



5857



8967



7512

Aşağıdaki sayıları önce en yakın onluğa sonra yazdığınız yeni sayıyı en yakın yüzlüğe örnekteki gibi yuvarlayarak yazınız.

Sayı	En Yakın Onluk	En Yakın Yüzlük
7940	7940	7900
9560
6702
6800
2867

Sayı	En Yakın Onluk	En Yakın Yüzlük
9765
7436
9399
2588
6069

Aşağıdaki sayıların hangi onluğa daha yakın olduklarını yazınız.

9660	→	<input type="text"/>
3170	→	<input type="text"/>
1345	→	<input type="text"/>
4058	→	<input type="text"/>
4947	→	<input type="text"/>

1095	→	<input type="text"/>
7606	→	<input type="text"/>
5502	→	<input type="text"/>
4269	→	<input type="text"/>
8414	→	<input type="text"/>

Aşağıdaki sayıların hangi yüzlüğe daha yakın olduklarını yazınız.

1489	→	<input type="text"/>
8750	→	<input type="text"/>
6937	→	<input type="text"/>
3563	→	<input type="text"/>
1969	→	<input type="text"/>

7677	→	<input type="text"/>
8381	→	<input type="text"/>
7934	→	<input type="text"/>
2738	→	<input type="text"/>
5182	→	<input type="text"/>