






Adı: \_\_\_\_\_

Tarih: \_\_\_\_\_

## Tek ve Çift Doğal Sayılar

Aşağıdaki kirazların sayısını ve tek ya da çift olduklarını bulup karşlarına yazınız.

	Kaç Tane?	Tek mi Çift mi?
	.....	.....
	.....	.....
	.....	.....
	.....	.....
	.....	.....

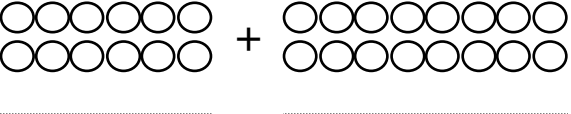
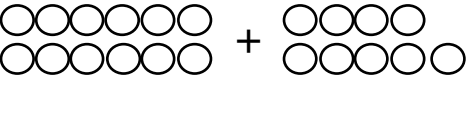
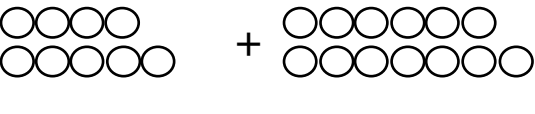
Aşağıda yer alan doğal sayılardan çift doğal sayı olanların karşısına çift, tek doğal sayı olanların karşısına tek yazınız.

Sayı	Tek mi Çift mi?
404	.....
710	.....
604	.....

Sayı	Tek mi Çift mi?
27	.....
202	.....
206	.....

Sayı	Tek mi Çift mi?
462	.....
819	.....
306	.....

Aşağıdaki toplama işlemlerini yapınız. Toplanan sayıların ve toplamın tek mi, çift mi olduğunu noktalı yerlere yazınız.

	Sonuç	Tek mi Çift mi?
	.....	.....
	.....	.....
	.....	.....